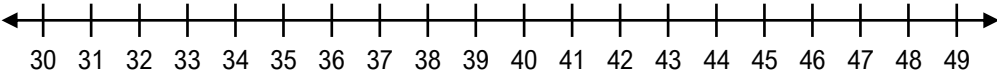
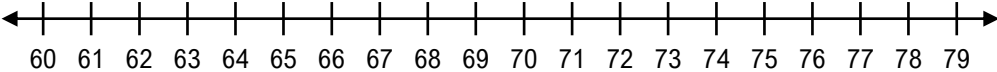


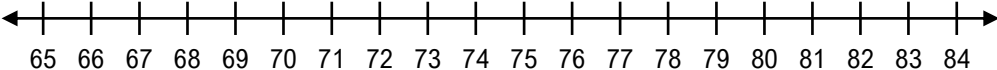
Additionner sur une droite numérique

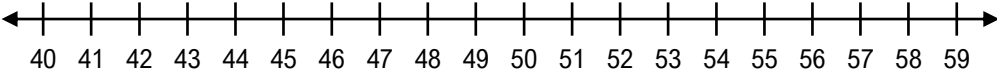
Trouve la somme de chaque addition en te servant de la droite numérique.

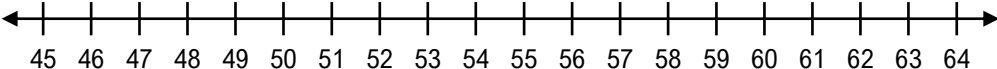
a) $37 + 4 =$ 

b) $22 + 9 =$ 

c) $63 + 6 =$ 

d) $70 + 7 =$ 

e) $48 + 5 =$ 

f) $54 + 8 =$ 

Nom : _____ Date : _____

Additionner sur une droite numérique

Trouve la somme de chaque addition en te servant de la droite numérique.

