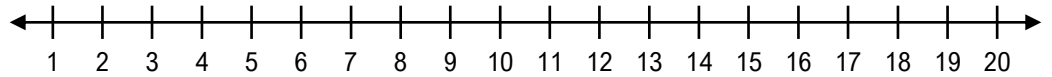


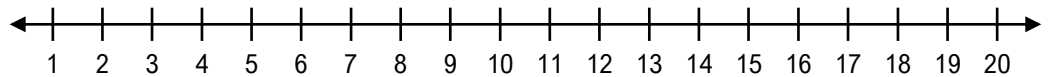
Soustraire sur une droite numérique

Trouve la différence de chaque soustraction en te servant de la droite numérique.

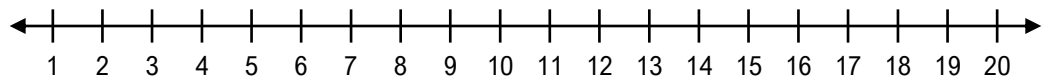
a) $5 - 3 =$



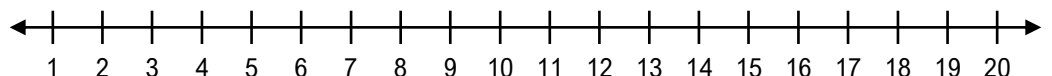
b) $2 - 1 =$



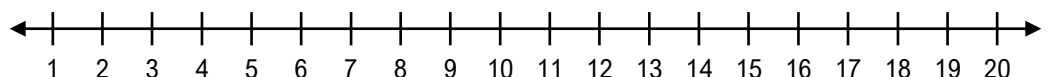
c) $6 - 2 =$



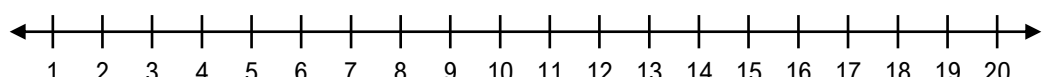
d) $5 - 1 =$



e) $7 - 2 =$



f) $9 - 3 =$



Nom : _____ Date : _____

Soustraire sur une droite numérique

Trouve la différence de chaque soustraction en te servant de la droite numérique.

