

L'argent

Écris le nombre de pièces et de billets qu'il te faut pour obtenir le montant indiqué.

a)

b)

c)


d)

60 \$


84 \$

285 \$


376 \$




1



0



1



0



0









0

Nom : _____

Date : _____

L'argent

Écris le nombre de pièces et de billets qu'il te faut pour obtenir le montant indiqué.

	a)	b)	c)	d)
	60 \$	84 \$	285 \$	376 \$
	1	1	5	7
	0	1	1	1
	1	1	1	0
	0	0	1	1
	0	2	0	0
	0	0	0	1