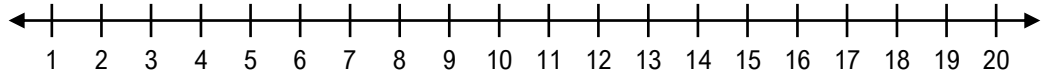


## Additionner sur une droite numérique

Trouve la somme de chaque addition en te servant de la droite numérique.

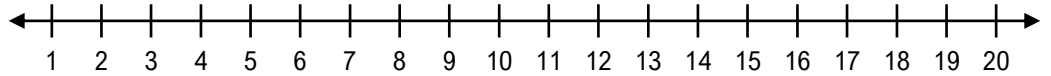
a)

$1 + 6 =$



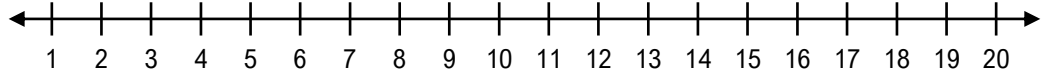
b)

$2 + 4 =$



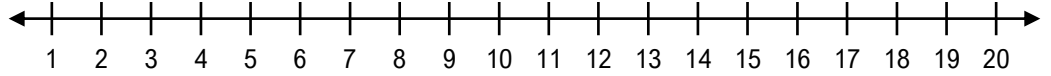
c)

$2 + 5 =$



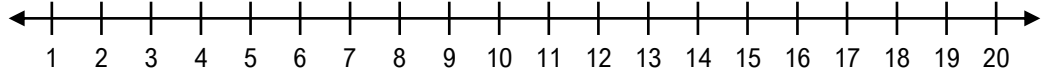
d)

$6 + 2 =$



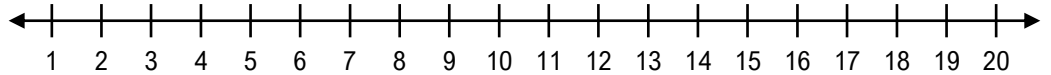
e)

$1 + 2 =$



f)

$5 + 3 =$



Nom : \_\_\_\_\_ Date : \_\_\_\_\_

## Additionner sur une droite numérique

Trouve la somme de chaque addition en te servant de la droite numérique.

